



パズル道場 幼児編テキスト 見本

この教材は『パズル道場』検定プログラムの抜粋版です



パズル道場プライマリー（30 級～21 級） 教材抜粋見本

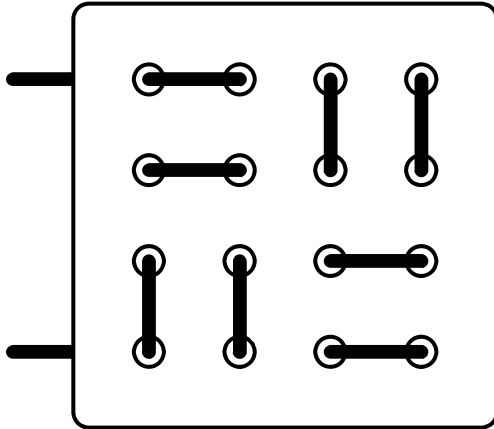
- ※1 見本なので、実物より小さくなっています。
- ※2 実物は、フルカラーで、かつ、イラストをふんだんに使用します。
- ※3 この見本は、20 級～11 級にある項目以外が中心になっています。

教具（指先トレ&平面感覚）

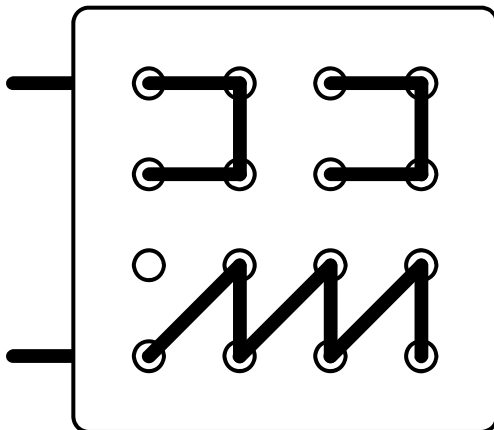
ひもとおし

■プライマリーⅠ（30・29級）

みほんのように ひもを 1 ぽん とおしましょう。

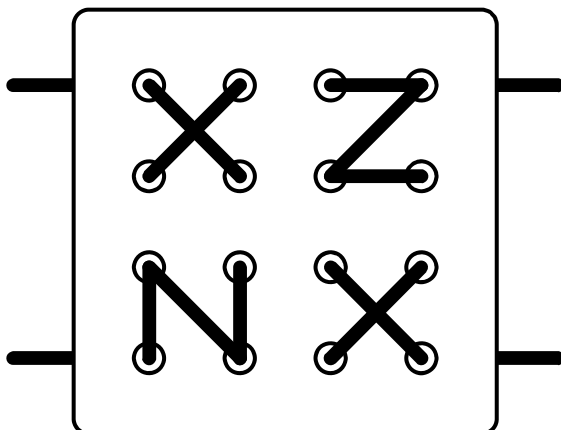


■プライマリーⅡ（28・27・26級）



■プライマリーⅢ（25・24・23・22・21級）

みほんのように ひもを 2 ぽん とおしましょう。

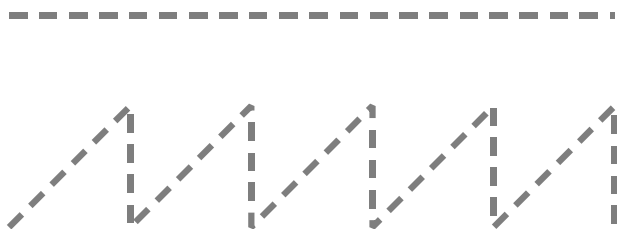


空間把握能力（平面・立体感覚）

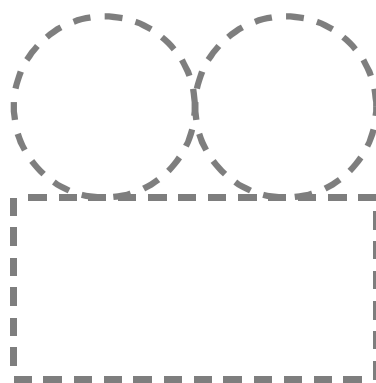
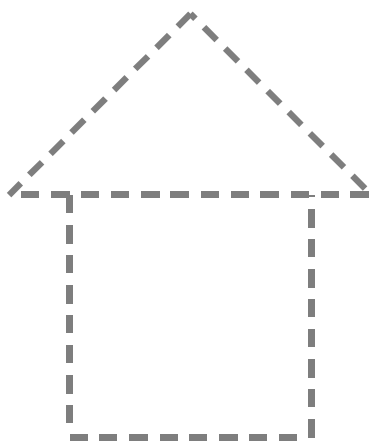
なぞろうくん

■プライマリーⅠ（30・29級）

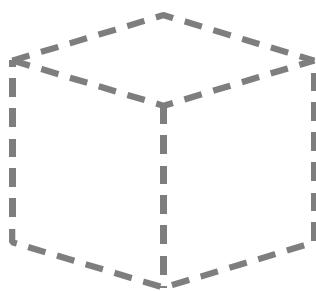
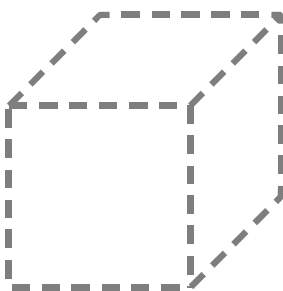
てんせんを なぞりましょう。



■プライマリーⅡ（28・27・26級）



■プライマリーⅢ（25・24・23・22・21級）



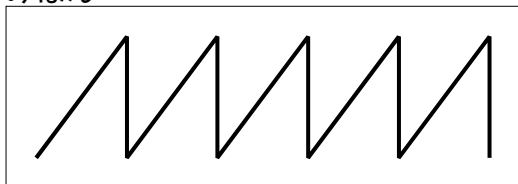
空間把握能力（平面・立体感覚）

そっくりせん

■プライマリーⅠ（30・29級）

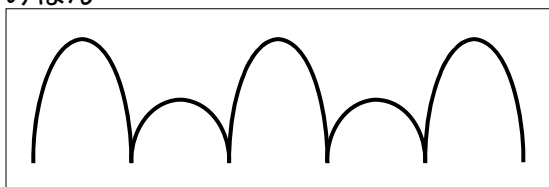
みほんとおなじせんをひきましょう。

みほん




■プライマリーⅡ（28・27・26級）

みほん



■プライマリーⅢ（25・24・23・22・21級）



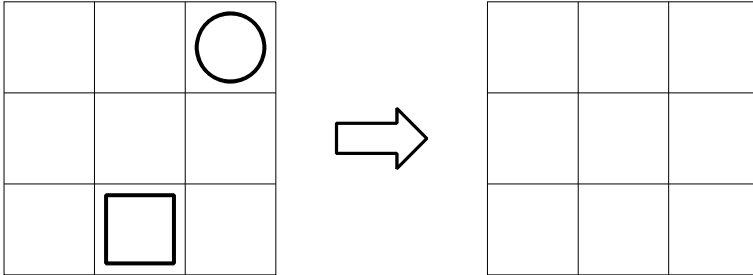
空間把握能力（平面・立体感覚）

そっくりずけい

■プライマリーⅠ（30・29級）

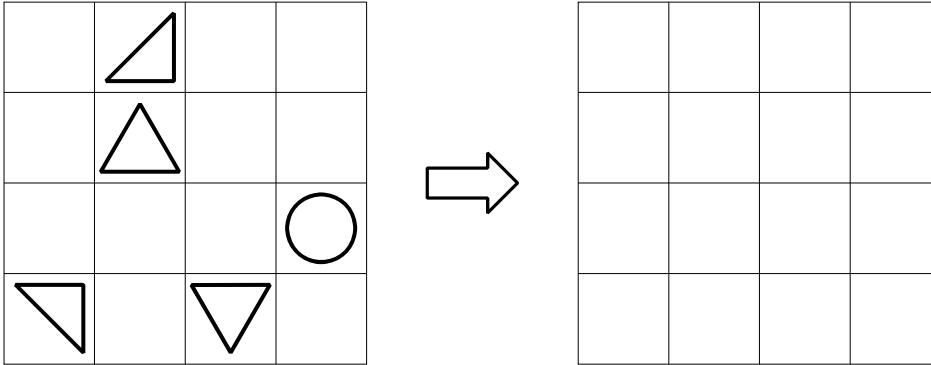
みほんとおなじずけいをかきましょう。

みほん



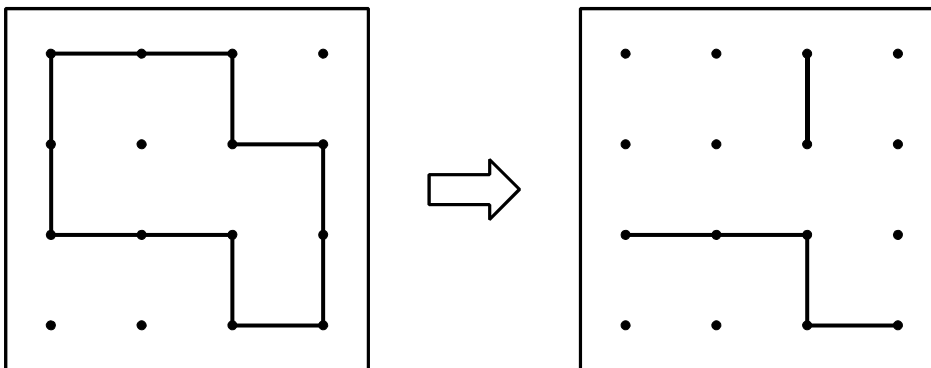
■プライマリーⅡ（28・27・26級）

みほん



■プライマリーⅢ（25・24・23・22・21級）

ひだりの おてほんとおなじになるように、みぎの ずの たりない ところに せんをかきましょう。



空間把握能力（平面・立体感覚）


なかまをさがそう

■プライマリーⅠ（30・29級）

みほんとおなじものをさがして、○でかこみましょう。



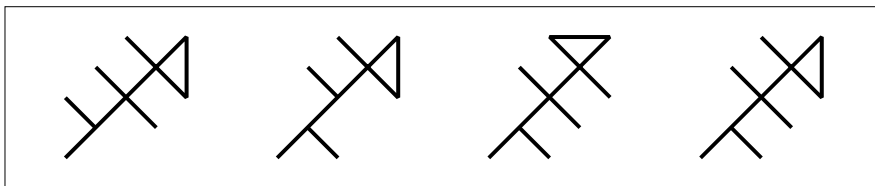
みほん



■プライマリーⅡ（28・27・26級）

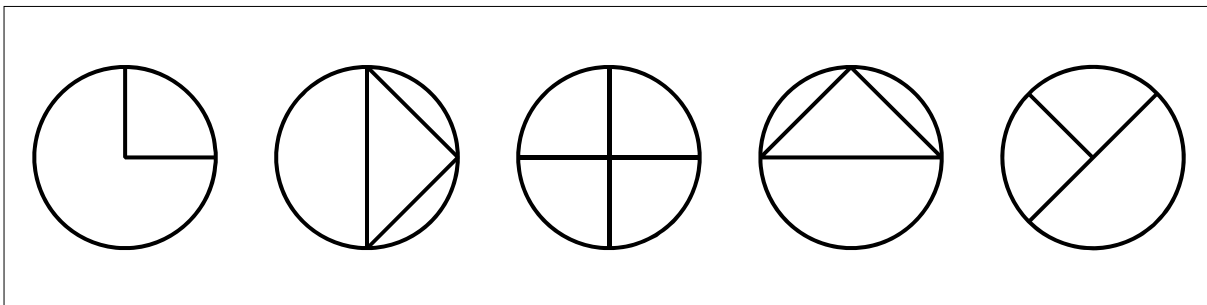


みほん



■プライマリーⅢ（25・24・23・22・21級）

おなじずけいを2つみつけて、○でかこみましょう。




空間把握能力（平面・立体感覚）

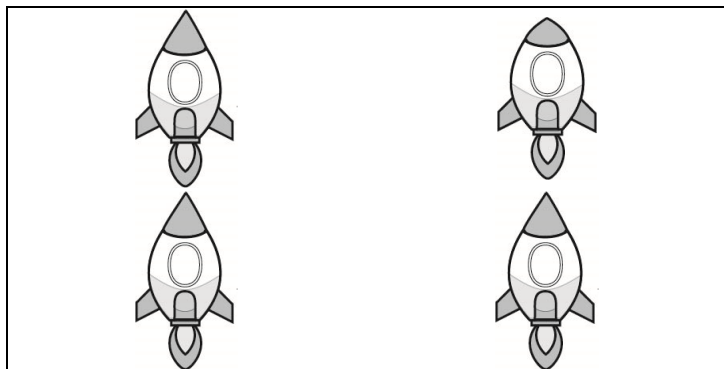
なかまはずれ

■ プライマリー I (30・29 級)

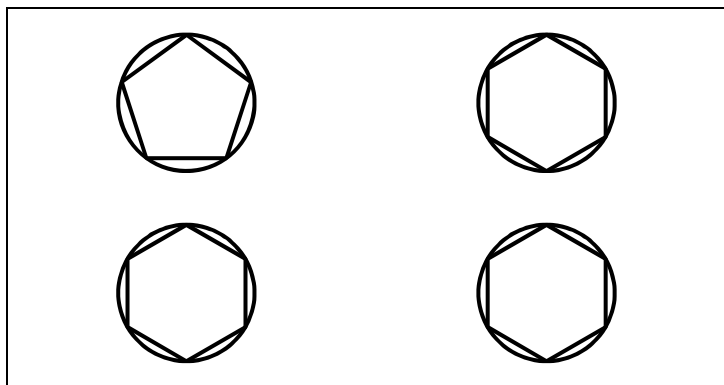
なかまはずれは どれでしょう。○で かこみましょう。



■ プライマリー II (28・27・26 級)



■ プライマリー III (25・24・23・22・21 級)




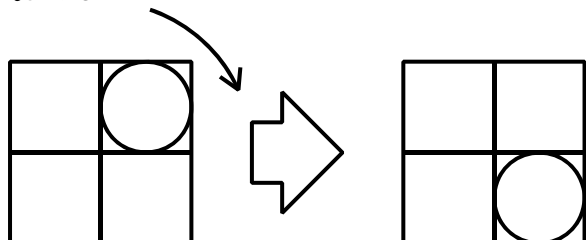
空間把握能力（平面・立体感覚）

くるくるころころ

■プライマリーⅡ（28・27・26級）


おてほんをみて、つぎにくるかたちをかんがえてかきましょう。

おてほん




■プライマリーⅢ（25・24・23・22・21級）

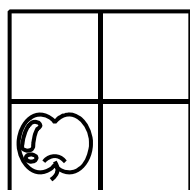
つぎにくるかたちを、したの4つのなかからえらび、ばんごうを○でかこみましょう。



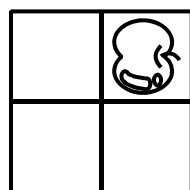
①



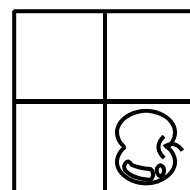
②



③




④




なぞはっけん

■ プライマリーⅡ (28・27・26 級)


ある きまりで ならんでいます。つづきは どれでしょうか。したの 3つの なかから えらび、
ばんごうを ○で かこみましょう。




①



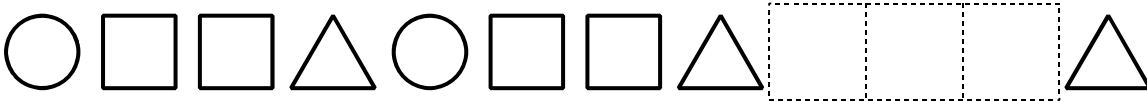
②




③




■ プライマリーⅢ (25・24・23・22・21 級)




①



②



③

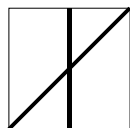
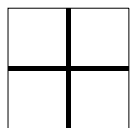

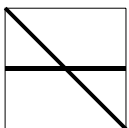
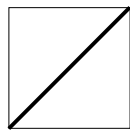
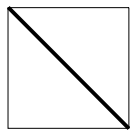
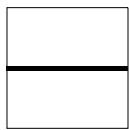
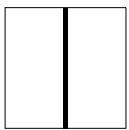
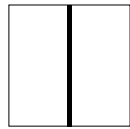
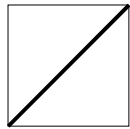
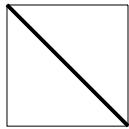



空間把握能力（平面・立体感覚）

へんし〜ん

■プライマリーⅢ（25・24・23・22・21級）


うえの 2つの ずけいを かさねあわせると、どんな ずけいになりますか。したから えらび、せんでむすびましょう。



めいろ

■プライマリーⅠ（30・29級）

スタートから ゴールまで せんで たどりましょう。



■プライマリーⅡ（28・27・26級）

省略

■プライマリーⅢ（25・24・23・22・21級）

省略